

SVARARK OPGAVE 1

Skole: _____ Klasse: _____

Summen er: _____

SVARARK OPGAVE 2

Skole: _____ Klasse: _____

Hestens rundtur til flest felter:

SVARARK OPGAVE 3

Skole: _____ Klasse: _____

Svar:

Hvor mange tal:

a) _____

Hvor mange er med i 10-tabellen?

b) _____

Hvor mange er med i 5-tabellen?

c) _____

SVARARK OPGAVE 4

Skole: _____ Klasse: _____

Hvor stor er vinkel X?

SVARARK OPGAVE 5

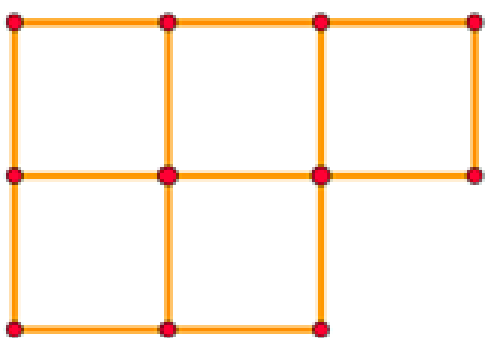
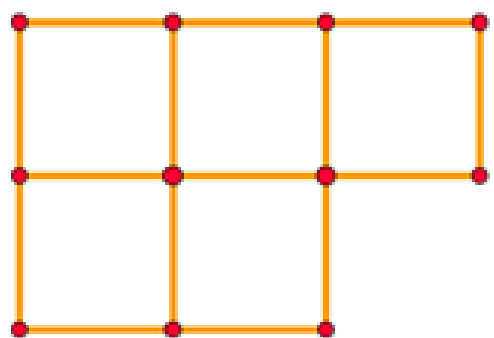
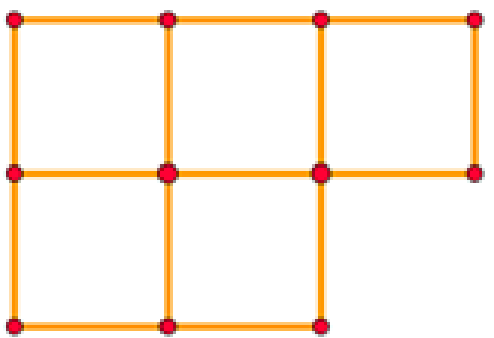
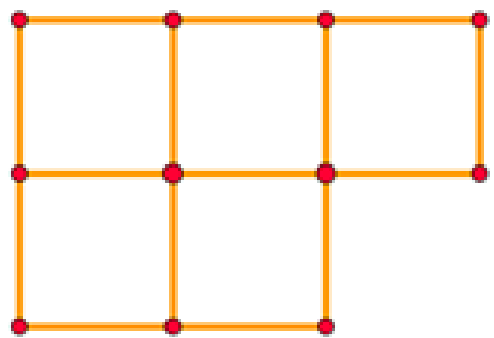
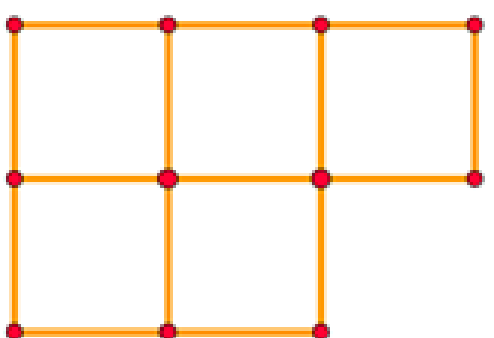
Skole: _____ Klasse: _____

Hvor lang tid tager det Emma at gå til sygehuset på en almindelig dag?

SVARARK OPGAVE 6

Skole: _____ Klasse: _____

Indtegn de 5 løsninger:

<p>1</p> 	<p>2</p> 
<p>3</p> 	<p>4</p> 
<p>5</p> 	

SVARARK OPGAVE 7

Skole: _____ Klasse: _____

Det største produkt er: _____

SVARARK OPGAVE 8

Skole: _____ Klasse: _____

Indtegn jeres løsning:

